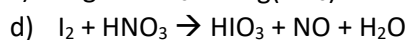
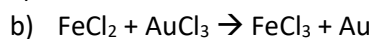
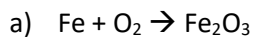


1) Indica los números de oxidación de todos los átomos que aparecen en las siguientes ecuaciones químicas redox. Indica qué especies se oxidan y cuáles se reducen.



2) Determina razonadamente cuáles de las siguientes ecuaciones representan procesos redox e indica las sustancias que se oxidan y las que se reducen.

